

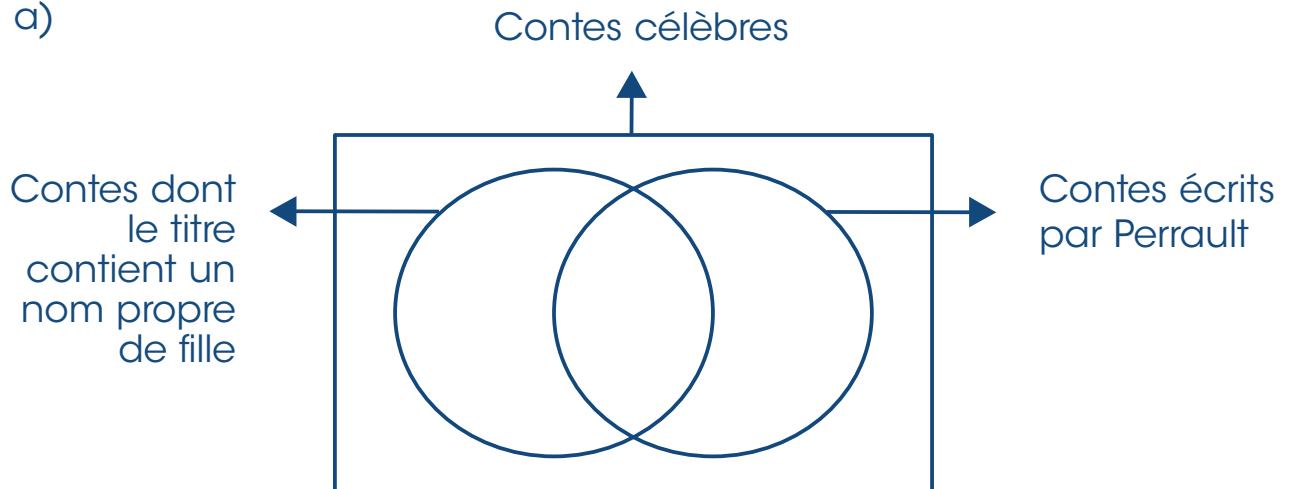
Des contes célèbres

Conte	Auteur	Date
1. <i>Cendrillon</i>	Charles Perrault	1628 - 1703
2. <i>La belle au bois dormant</i>	Charles Perrault	1628 - 1703
3. <i>Jacques et le haricot magique</i>	Conte populaire de tradition orale	inconnue
4. <i>Le Petit Chaperon rouge</i>	Charles Perrault	1628 - 1703
5. <i>Blanche-Neige et les sept nains</i>	Jacob et Wilhelm Grimm	1785 - 1863 1786 - 1859
6. <i>Les habits neufs de l'empereur</i>	Hans Christian Andersen	1805 - 1877
7. <i>Les trois petits cochons</i>	Conte populaire de tradition orale	inconnue
8. <i>Le Petit Poucet</i>	Charles Perrault	1628 - 1703
9. <i>Le vilain petit canard</i>	Hans Christian Andersen	1805 - 1877
10. <i>Hansel et Gretel</i>	Jacob et Wilhelm Grimm	1785 - 1863 1786 - 1859
11. <i>Boucle d'or et les trois ours</i>	Conte populaire de tradition orale	inconnue
12. <i>Le Chat botté</i>	Charles Perrault	1628 - 1703

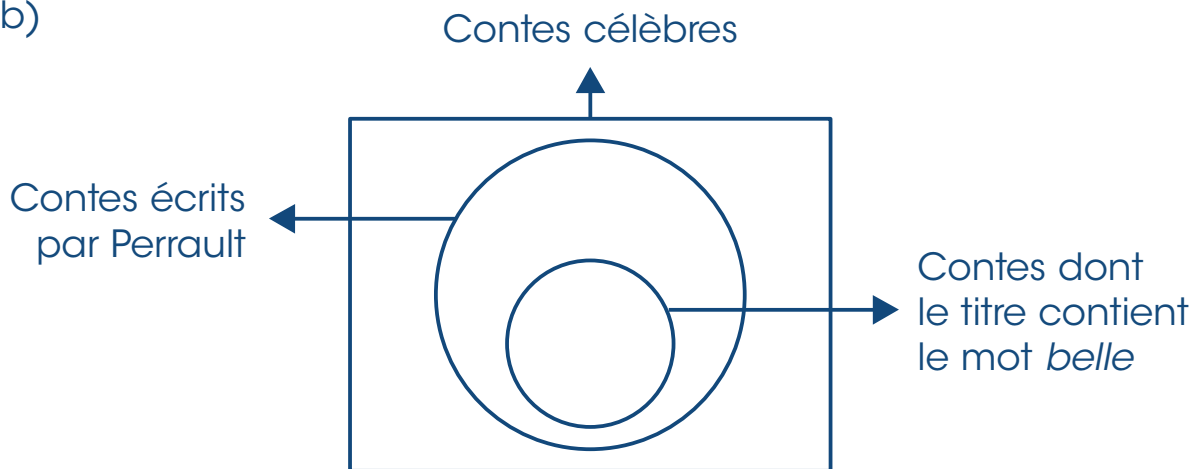
La classification des contes

1. Utilise la liste des contes célèbres pour remplir les diagrammes de Venn.

a)



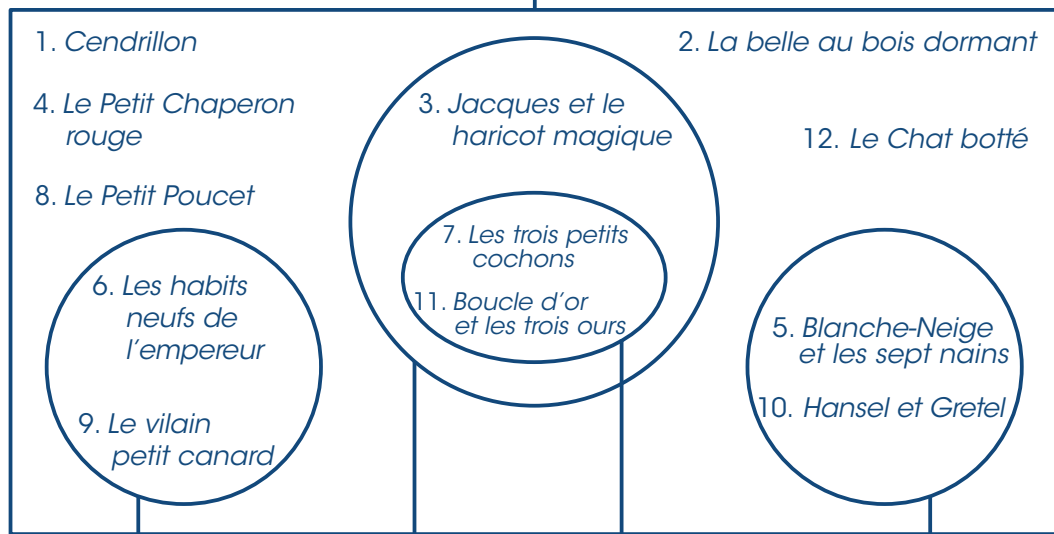
b)



2. Détermine les critères de classification des régions suivantes.

a)

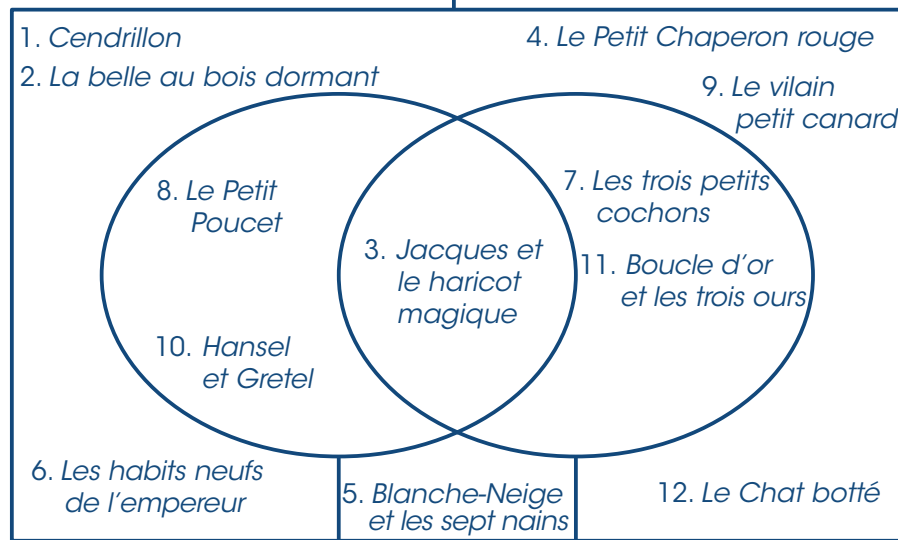
Contes célèbres



_____	_____	_____	_____
_____	_____	_____	_____
_____	_____	_____	_____

b)

Contes célèbres



_____	_____
_____	_____
_____	_____



Diagramme de Carroll/Un critère

1. Écris :

- le titre du diagramme de Carroll;
- l'étiquette de la colonne de droite.

2. Classifie les 12 titres de contes célèbres. Écris les numéros des contes seulement.

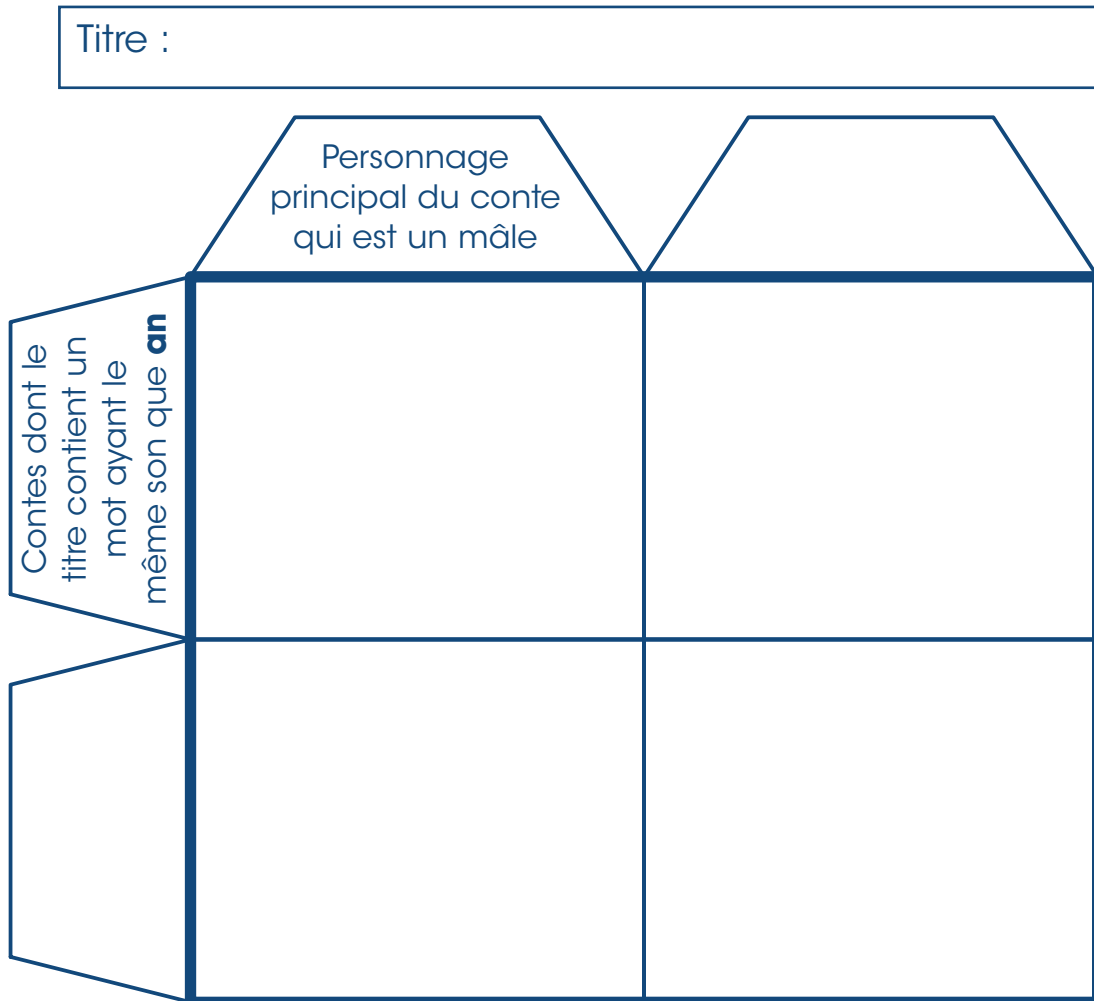
Titre :

Personnage
principal du conte
qui est un animal



Je classifie des contes

1. Écris le titre du diagramme de Carroll.
2. Écris les deux étiquettes qui manquent.
3. Classifie les 12 titres de contes célèbres. Écris les numéros seulement.



4. Quel est le nom que l'on donne à ce diagramme?

